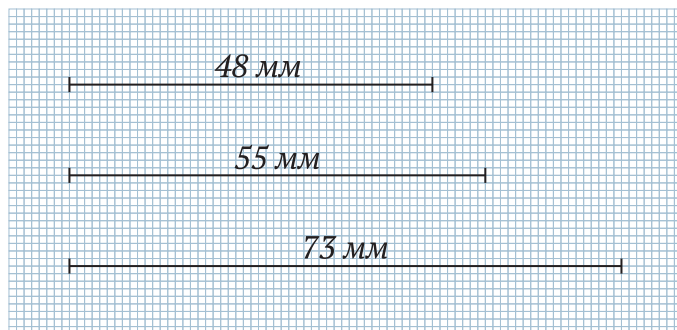


## Практическая работа

I вариант

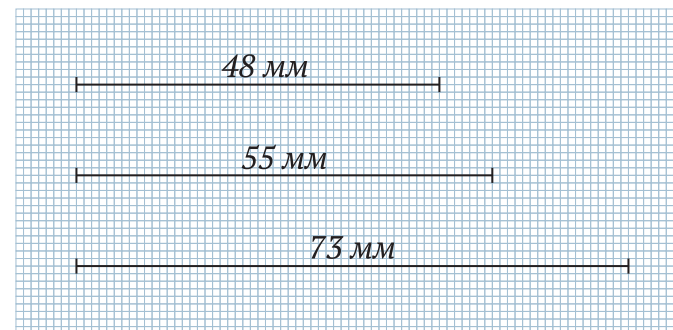
**Задание.** Построить треугольник по трем его заданным сторонам.  
С помощью транспортира определить градусную меру большего угла.



## Практическая работа

I вариант

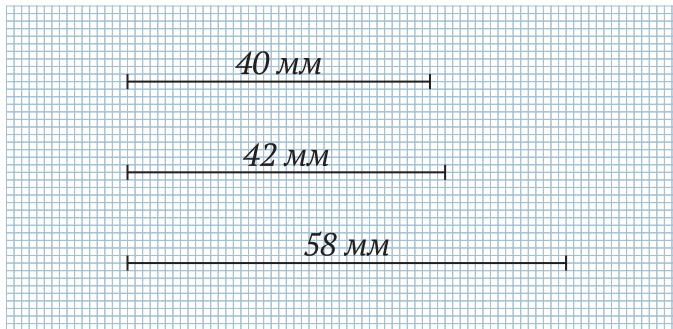
**Задание.** Построить треугольник по трем его заданным сторонам.  
С помощью транспортира определить градусную меру большего угла.



## Практическая работа

II вариант

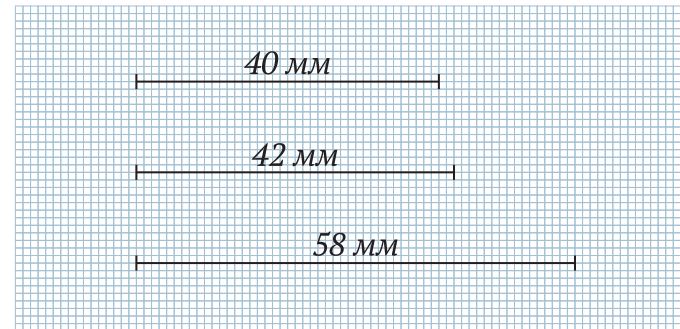
**Задание.** Построить треугольник по трем его заданным сторонам.  
С помощью транспортира определить градусную меру большего угла.



## Практическая работа

II вариант

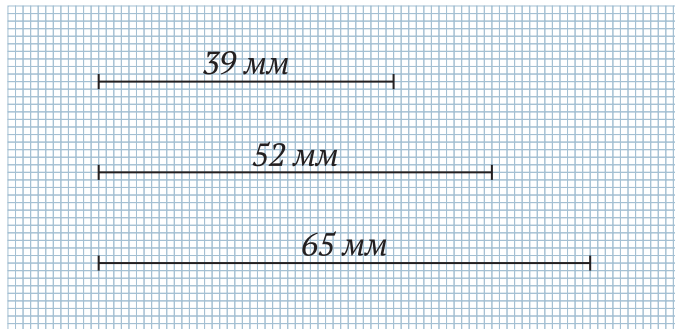
**Задание.** Построить треугольник по трем его заданным сторонам.  
С помощью транспортира определить градусную меру большего угла.



## Практическая работа

III вариант

**Задание.** Построить треугольник по трем его заданным сторонам.  
С помощью транспортира определить градусную меру большего угла.



## Практическая работа

III вариант

**Задание.** Построить треугольник по трем его заданным сторонам.  
С помощью транспортира определить градусную меру большего угла.

